

На координатной прямой точки A , B , C и D соответствуют числам $-0,201$; $-0,012$; $-0,304$; $0,021$.



Какой точке соответствует число $-0,304$?

1) A 2) B 3) C 4) D

Найдите значение выражения $\sqrt{4^6}$.

Найдите корень уравнения $8 + 7x = 9x + 4$.

Установите соответствие между функциями и их графиками.

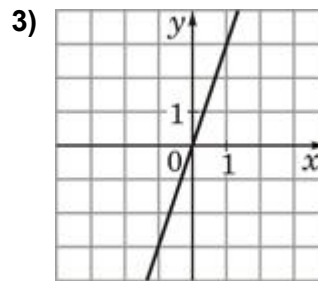
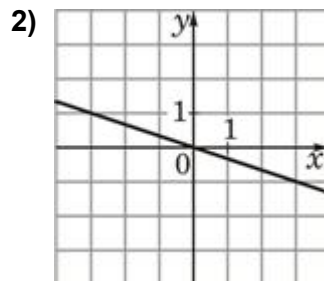
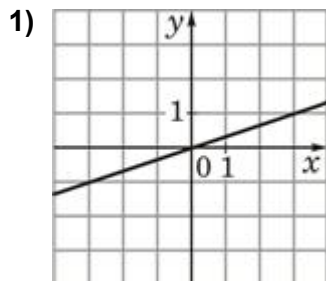
ФУНКЦИИ

А) $y = 3x$

Б) $y = \frac{1}{3}x$

В) $y = -\frac{1}{3}x$

ГРАФИКИ



В таблице под каждой буквой укажите соответствующий номер.

Найдите значение выражения $\frac{6^5}{2^3 \cdot 3^4}$.